

# EUROPA ORIENTALE

## Cose da sapere

### A. Le idee importanti

- L'Europa orientale è una grande regione tra l'Istmo russo e i Monti Urali
- È una grandissima pianura con poche colline al centro e montagne a est e a sud
- In questa regione ci sono 7 Stati e vivono 182 milioni di persone
- Le città più importanti sono quattro: Mosca, San Pietroburgo, Kiev e Minsk
- La grande pianura russa ha tre parti molto diverse
- Nell'Europa orientale ci sono ancora molte zone umide, che sono importanti per gli animali e per gli uomini

### ■ L'Europa orientale è una grande regione tra l'Istmo russo e i monti Urali

L'Europa orientale incomincia da una linea che puoi tirare dal Mar Baltico al Mar Nero (questa linea si chiama Istmo russo) e finisce con i Monti ..... a est, il Mar Nero, i monti del ..... e il Mar Caspio a sud.



È una **regione molto grande**, soprattutto **pianeggiante**, con **molti fiumi** e **molti laghi**. Alcuni fiumi sfociano a sud; altri a nord e per molti mesi l'anno sono ghiacciati.

Sfociano a sud il ....., il ....., il ..... e il ..... Sfociano a nord la ..... e la .....

Il fiume più lungo è il **Volga**, che scorre per più di 3500 chilometri. Il Volga è anche il fiume più lungo di tutta l'Europa.

Il **clima** è molto diverso da zona a zona:

- nella parte settentrionale è **freddo o freddissimo**
- nella parte centrale è **continentale**, con inverni freddi e estati calde
- nella parte meridionale è ancora **continentale**, ma **con poche piogge**

■ È una grandissima pianura con poche colline al centro e montagne a est e a sud

L'Europa orientale è soprattutto una grandissima pianura, che si chiama **pianura russa**. In confronto alla pianura russa, le altre pianure dell'Europa sembrano proprio piccole.

Al centro dell'Europa orientale, ci sono poi delle colline basse. Guarda la carta e scrivi come si chiamano:

- 1) ..... 2) .....

Infine, ci sono due catene di montagne: a est i **Monti Urali**, non molto alti, e a sud i monti del **Caucaso**, che sono invece molto alti. La cima più alta del Caucaso, il monte Elbrus, è alta 5633 metri.

■ In questa regione ci sono 7 Stati e vivono 182 milioni di persone

In questa regione ci sono 7 Stati. Guarda la carta e impara i nomi dei Paesi più grandi e più abitati.



Guarda la tabella e rispondi alle domande.

1. Quali sono i tre Paesi più grandi?

- 1) .....  
 2) .....  
 3) .....

2. Qual è il Paese più piccolo? .....

3. Quali sono i tre Paesi con più abitanti?

- 1) .....  
 2) .....  
 3) .....

4. Qual è il Paese con meno abitanti?

.....

5. Quali sono i tre Paesi sul Mar Baltico (che si chiamano anche «Paesi baltici»)?

- 1) .....      2) .....      3) .....

### ■ Le città più importanti sono quattro: Mosca, San Pietroburgo, Kiev e Minsk

In questa parte dell'Europa le città più grandi sono quattro:

- **Mosca**, che è la capitale della Russia, dove vivono 8 milioni di persone
- **San Pietroburgo**, che è stata la capitale della Russia fino al 1917, con 4,2 milioni di abitanti
- **Kiev**, che è la capitale dell'Ucraina, con 2,6 milioni di abitanti
- **Minsk**, la capitale della Bielorussia, con 1,7 milioni di abitanti



#### **Centro di Mosca**

Al centro della fotografia vedi il muro del Cremlino, dove abitavano gli zar (imperatori di Russia) prima del 1917. A destra c'è la grande chiesa di San Basilio; in fondo c'è la Piazza Rossa, la più importante della città.

#### **San Pietroburgo: l'Ermitage**

Questo è il Palazzo d'Inverno, sul fiume Neva. È una parte dell'Ermitage, dove c'è anche un importante museo. Anche nel Palazzo d'Inverno abitavano gli zar.



#### **Europa orientale**

Stato (capitale)	superficie (km <sup>2</sup> )	abitanti
<b>1 Russia europea</b> (Mosca)	4 238 000	112,1 milioni
<b>2 Ucraina</b> (Kiev)	604 000	48,9 milioni
<b>3 Bielorussia</b> (Minsk)	208 000	9,9 milioni
<b>4 Estonia</b> (Tallinn)	45 000	1,3 milioni
<b>5 Lettonia</b> (Riga)	65 000	2,3 milioni
<b>6 Lituania</b> (Vilnius)	65 000	3,5 milioni
<b>7 Moldavia</b> (Chisinău)	34 000	4,3 milioni
<b>Europa orientale</b>	<b>5 259 000</b>	<b>182,3 milioni</b>

*Per confrontare i dati:*

Italia	301 000	57,0 milioni
Sicilia	26 000	5,0 milioni

(superficie approssimata a 1000 km<sup>2</sup>, popolazione approssimata a 100 000 abitanti)



## ■ La grande pianura russa ha tre parti molto diverse

Nella grande pianura russa ci sono tre zone molto diverse:

- la pianura settentrionale
- la pianura centrale tra i fiumi Volga e Dnepr
- la pianura meridionale

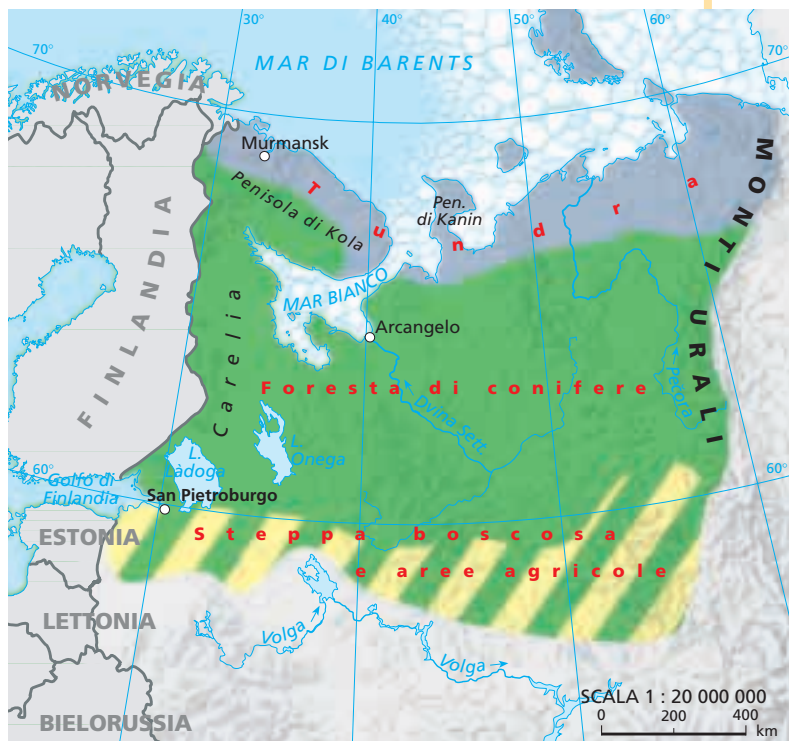
La pianura settentrionale ha un clima freddo o freddissimo. Per questo ha pochissimi abitanti.

Come vedi, molto a nord, sul Mar di Barents, c'è la **tundra**, che è fatta di piccole piante basse che crescono solo d'estate, quando il ghiaccio si scioglie.

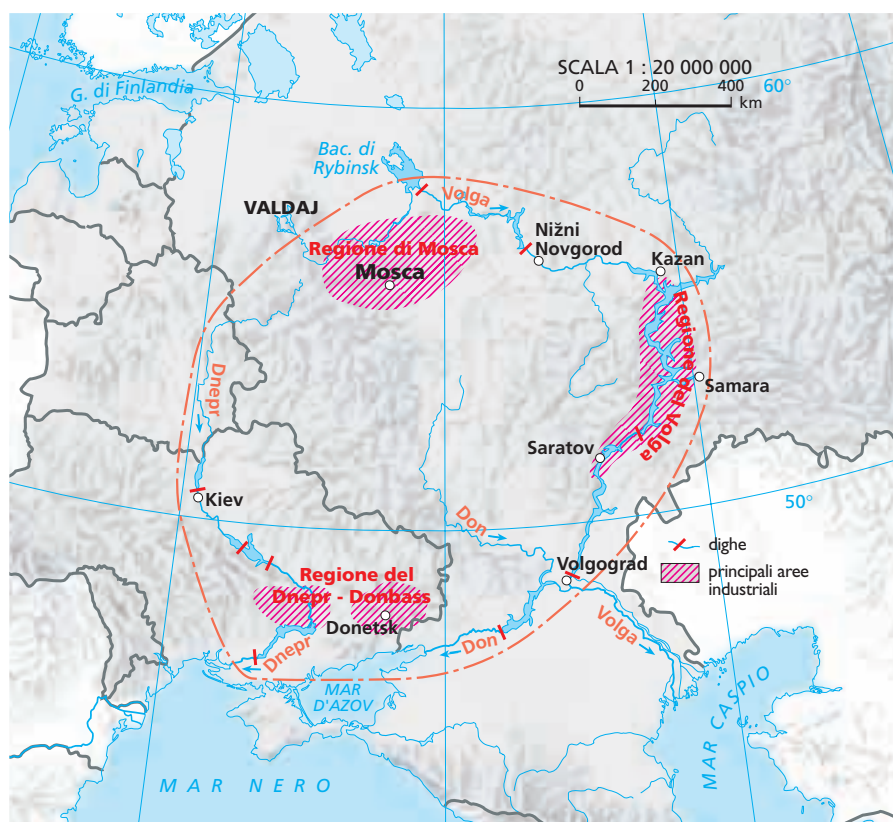
Un po' più a sud ci sono grandissime foreste di conifere. Questa zona si chiama anche **taiga**.

Più a sud, c'è la **steppa**, una zona con alberi e erba e poi **paludi** e **zone umide**.

Vicino alla steppa, ci sono anche i campi coltivati (aree agricole).



La pianura centrale, tra i fiumi Volga e Dnepr, ha un clima continentale.



Come vedi, qui ci sono **importanti città**, come Mosca e Kiev, e **molte industrie**, perché ci sono ferro e carbone e dall'acqua dei fiumi si può produrre energia elettrica.

Fino al 1989 le industrie erano quasi tutte pesanti: producevano motori, ferrovie, macchine agricole.

Oggi, le industrie producono anche molti beni (cose) per la nostra vita di tutti i giorni, come i televisori o le automobili.

La pianura meridionale è a sud di Mosca e di Kiev. Ha un clima continentale, ma con poche piogge.



Qui la terra è molto fertile e scura: per questo la zona si chiama anche «**le terre nere**». Si coltivano cereali, barbabietole, girasoli e patate.

■ **Nell'Europa orientale ci sono ancora molte zone umide, che sono importanti per gli animali e per gli uomini**

Nell'Europa orientale ci sono ancora molte zone umide, dove l'acqua è ferma e non scorre verso i fiumi o verso il mare. Sono zone umide, ad esempio, le **paludi** e gli **stagni**.

Queste zone sono molto importanti per gli animali, perché qui molti pesci e uccelli fanno le uova. Ma sono anche importanti per gli uomini, perché queste zone sono come delle spugne, che assorbono l'acqua quando i fiumi sono troppo pieni e la lasciano andare quando i fiumi hanno meno acqua.

È importante quindi non asciugare queste zone e non trasformarle in campi coltivati.

## B. Esercizi

### • Segna la risposta giusta

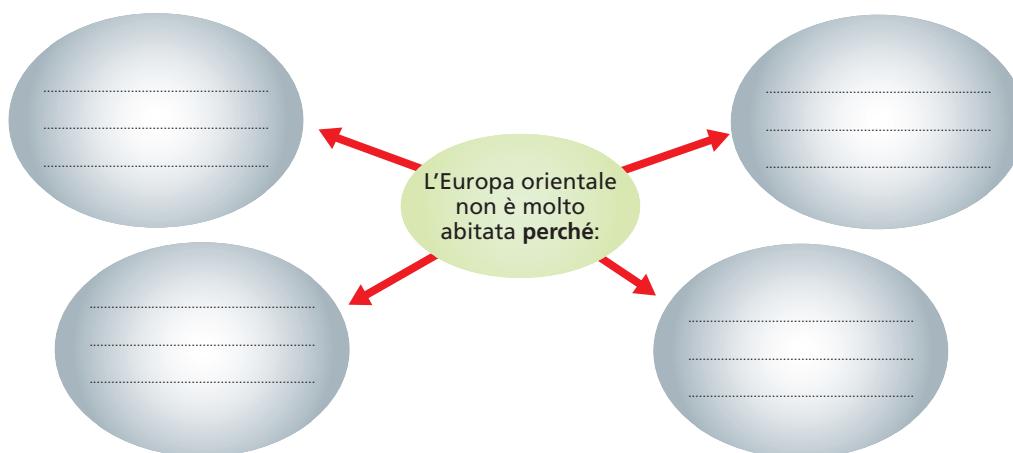
L'Europa orientale è una regione molto pianeggiante	<input type="checkbox"/>	<input type="checkbox"/>
Gli abitanti di questa parte dell'Europa sono circa 50 milioni	<input type="checkbox"/>	<input type="checkbox"/>
Le città più grandi e importanti sono Mosca e San Pietroburgo	<input type="checkbox"/>	<input type="checkbox"/>
La Russia è lo Stato più grande dell'Europa orientale	<input type="checkbox"/>	<input type="checkbox"/>
La pianura russa settentrionale è molto abitata	<input type="checkbox"/>	<input type="checkbox"/>
Le grandi industrie russe sono tra i fiumi Volga e Dnepr	<input type="checkbox"/>	<input type="checkbox"/>
Le terre nere si chiamano così perché c'è il carbone	<input type="checkbox"/>	<input type="checkbox"/>

### • Segna le risposte giuste (due sono sbagliate)

L'Europa orientale non è molto abitata, **perché**:

- a) in molte zone il clima è molto freddo
- b) ci sono molte foreste
- c) non ci sono tante buone strade, ferrovie, porti e aeroporti
- d) non è una zona molto ricca
- e) non ci sono grandi fiumi
- f) non ci sono industrie

**Scrivi le risposte giuste dentro i cerchi**



### • Completa con le parole:

montagne, pianura russa, tundra, taiga, terre nere, colline, Caucaso, Mosca, San Pietroburgo, Volga

L'Europa orientale è una grande regione con una grande pianura che si chiama ..... Ha anche ..... al centro e ..... a est e a sud. Le montagne più alte sono quelle della catena del ....., che è a sud. L'Europa orientale non è molto popolata, perché ci sono delle zone, come la ..... e la ..... che hanno pochissimi abitanti. Ci sono però anche delle città molto grandi, come ..... e ..... Le zone più fertili e coltivate sono quelle centro-meridionali, che si chiamano ..... Le industrie sono soprattutto tra i fiumi ..... e Dnepr.

### • Rileggi ogni idea importante che hai studiato.

Per ogni idea, ripeti tutto quello che ti ricordi usando le parole che hai imparato. Quando parli, guarda sempre la carta dell'Europa centrale e occidentale o le immagini.